

# Matematică

Carmen Luca

Include  
sugestii de  
rezolvare









8. Eric dorește să își cumpere un ceai cald care costă 7 lei. El are următoarele bancnote:



Ajută-l să aleagă bancnotele potrivite pentru a plăti, fără să fie nevoie să primească rest!

- a) 2 imagini bancnote de 5 și una de 1 leu
- b) imagine bancnotă de 10 și 2 imag cu 1 leu
- c) imagine bancnotă de 5 și 2 imagini cu bancnotă de 1 leu
- d) imagine bancnota de 10, 5 și 1 leu

9. La plecare, Andrei a cumpărat o vedere cu 4 imagini de la munte. În ce parte a vederii se află cabana?



- a) dreapta sus
- b) dreapta jos
- c) stânga sus
- d) stânga jos


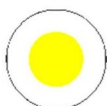

10. La finalul zilei, Andrei, Ionuț, Ilinca și Maia au scris într-un tabel de câte ori s-a dat fiecare singur cu sania.

Andrei	Ionuț	Ilinca	Maia
5	8	8	6

Scrie, pe spațiul de mai jos, numele copiilor care au fost la egalitate.

..... au fost la egalitate.

11. Maia a văzut semnele următoarelor trasee turistice marcate astfel:



Care este marcajul care conține două figuri geometrice identice?

- a) marcajul bandă
- b) marcajul punct
- c) marcaj cruce
- d) marcaj triunghi

Scrie, pe spațiul de mai jos, care este numele figurii geometrice alese.

.....



Rezolvare

1. d
2. c
3. 3
4. b
5. a
6. >
7. 124
8. c
9. d
10. Ionuț și Ilinca
11. b
12. Da, 7 lei.