



prof. Mihael Mihalcea (coord.)

prof. Daiana-Irenne Azamfirei

prof. Radu-Cătălin Gherghe

Evaluarea Națională

Teste rezolvate de matematică

pentru

clasa a VIII-a

CONFORM
NOII PROGRAME
ȘCOLARE

25

DE ANI ÎMPREUNĂ CU VOI

RENTROP
&
STRĂTON

1995-2020

www.portalinvatamant.ro



TESTE

Testul nr. 1

SUBIECTUL I

Încercuți litera corespunzătoare răspunsului corect.

(30 de puncte)

5p	<p>1. Numărul natural, care are descompunere în factori primi $2^5 \cdot 3 \cdot 5^2$, este:</p> <p>a) 300 b) 240 c) 2400 d) 1200</p>								
5p	<p>2. Andreea și Roxana au strâns suma de 360 lei. Pentru a cumpăra un joc de lego Andreea cheltuiește $\frac{2}{5}$ din suma strânsă. Cât costă jocul de lego cumpărat de Andreea?</p> <p>a) 216 b) 144 c) 72 d) 360</p>								
5p	<p>3. Diferența dintre cel mai mic număr întreg de o cifră și cel mai mare număr natural de o cifră este:</p> <p>a) 9 b) 18 c) 0 d) -18</p>								
5p	<p>4. Suma numerelor întregi din mulțimea $A = \left\{ -\sqrt{9}; -0,5; \frac{2}{3}; 1; \sqrt{3}; \frac{4}{2}; \sqrt{8} \right\}$ este:</p> <p>a) 0 b) -1 c) 1 d) 2</p>								
5p	<p>5. Ionuț și prietenii săi Mihai, Robert și Cătălin rezolvă următorul exercițiu $(\sqrt{72} - \sqrt{27})(6\sqrt{2} + 3\sqrt{3})$ și obțin rezultatele din tabelul următor:</p> <table border="1" style="margin-left: auto; margin-right: auto;"> <tbody> <tr> <td style="text-align: center;">Ionuț</td> <td style="text-align: center;">$\sqrt{72}$</td> </tr> <tr> <td style="text-align: center;">Mihai</td> <td style="text-align: center;">-45</td> </tr> <tr> <td style="text-align: center;">Robert</td> <td style="text-align: center;">45</td> </tr> <tr> <td style="text-align: center;">Cătălin</td> <td style="text-align: center;">$3\sqrt{3}$</td> </tr> </tbody> </table>	Ionuț	$\sqrt{72}$	Mihai	-45	Robert	45	Cătălin	$3\sqrt{3}$
Ionuț	$\sqrt{72}$								
Mihai	-45								
Robert	45								
Cătălin	$3\sqrt{3}$								

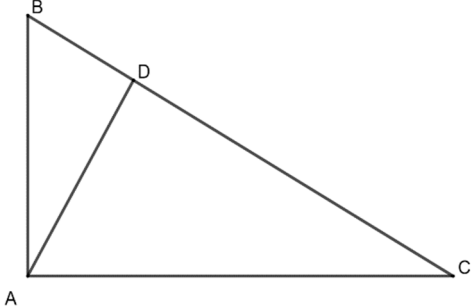
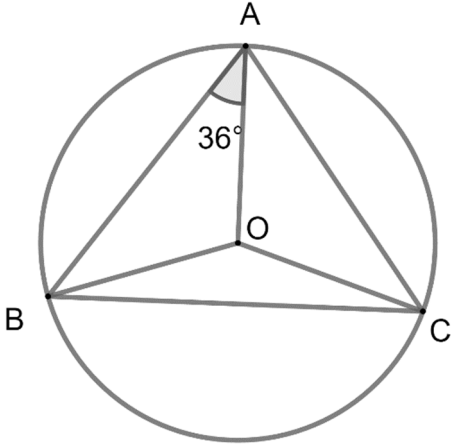
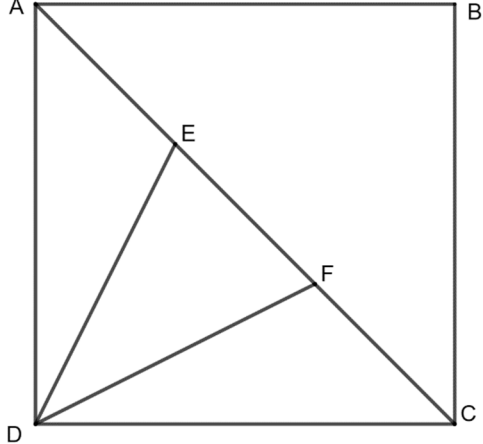
	<p>Dintre cei patru copii cel care a rezolvat corect exercițiu este:</p> <p>a) Mihai b) Robert c) Ionuț d) Cătălin</p>
<p>5p</p>	<p>6. Într-o școală se studiază limbile străine: engleză, franceză, germană și italiană. Procentul elevilor care studiază una dintre limbile străine se regăsește în diagrama alăturată. Procentul elevilor care studiază limbile engleză sau germană este:</p> <p>a) 35% b) 55% c) 20% d) 60%</p> <div data-bbox="808 392 1394 725" style="text-align: right;"> <p>Limba germană 20%</p> <p>Limba engleză 35%</p> <p>Limba italiană 15%</p> <p>Limba franceză 30%</p> </div>

SUBIECTUL al II-lea

Încercuiește litera corespunzătoare răspunsului corect.

(30 de puncte)

<p>5p</p>	<p>1. În figura alăturată este reprezentat un triunghi echilateral ABC. Dacă M este mijlocul laturii BC, atunci măsura unghiului CAM este:</p> <p>a) 60° b) 30° c) 45° d) 90°</p>	
<p>5p</p>	<p>2. În figura alăturată dreptele f și g sunt paralele, iar dreapta h este secantă. Valoarea lui x este egală cu:</p> <p>a) 64° b) 116° c) 58° d) 30°</p>	

<p>5p</p>	<p>3. În figura alăturată triunghiul ABC este dreptunghic în A, iar AD este înălțime. Dacă măsura unghiului ABC este de 30° și $AC = 8\text{ cm}$, atunci distanța dintre punctele C și D este:</p> <p>a) 6 cm b) 8 cm c) 4 cm d) 30 cm</p>	
<p>5p</p>	<p>4. Un grup de elevi din clasa a VIII-a vor să organizeze o excursie. Obiectivele turistice ce urmează a fi vizitate sunt reprezentate în schița alăturată prin punctele A, B și C. Studiind harta, au descoperit că cele trei obiective turistice sunt situate pe un cerc cu centrul în punctul O și rază R. Dacă măsura unghiului BAO este de 36° și coardele AB și AC sunt egale, atunci măsura arcului mic \widehat{BC} este:</p> <p>a) 36° b) 72° c) 108° d) 144°</p>	
<p>5p</p>	<p>5. În figura alăturată este reprezentată schița unei grădini, având forma unui pătrat $ABCD$ cu latura $AB = 60\text{ m}$. În grădină sunt cultivate legume cu excepția suprafeței DEF care este acoperită cu gazon. Dacă punctele E și F împart aleea AC în trei părți egale, atunci suprafața acoperită cu gazon este:</p> <p>a) 600 m^2 b) 3600 m^2 c) 60 m^2 d) 1800 m^2</p>	

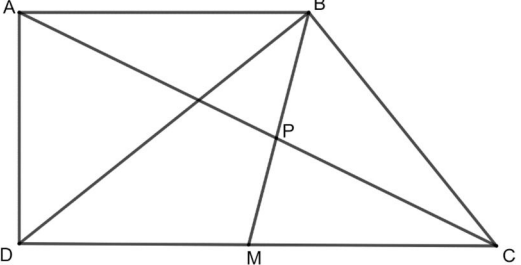
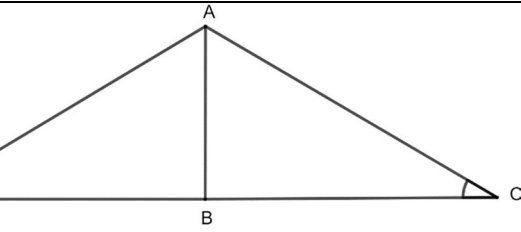
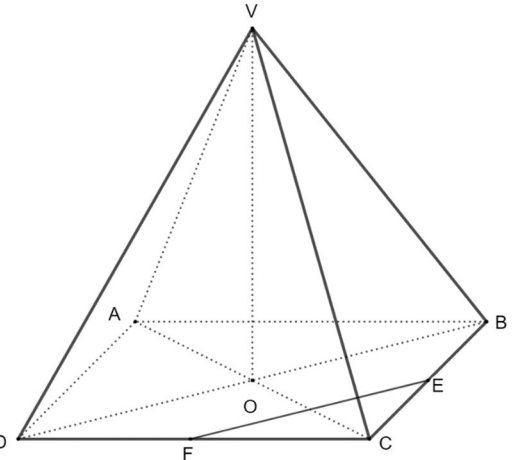
5p	<p>6. Camera lui Radu are o forma unui paralelipiped dreptunghic cu dimensiunile $L = 8$ m, $l = 6$ m, și $h = 3$ m. De câți metri pătrați de tapet are nevoie Radu pentru a acoperi pereții camerei sale?</p> <p>a) 180m^2 b) 84m^2 c) 48m^2 d) 24m^2</p>
-----------	---

SUBIECTUL al III-lea

Scrieți rezolvările complete.

(30 de puncte)

5p	<p>1. Mama Mariei are 53 de ani. Maria constată că peste 4 luni mama ei va fi de 4 ori mai în vârstă decât ea.</p> <p>(2p) a) Care este vârsta mamei Mariei în luni?</p> <p>(3p) b) Ce vârstă are Maria?</p>
5p	<p>2. Se consideră expresia $E(x) = \left(\frac{x^2 + 8}{x^2 + 2x - 3} + \frac{5}{x + 3} - \frac{1}{x - 1} \right) : \frac{x + 4}{x + 3}$, unde $x \in \mathbb{R} \setminus \{-4, -3, 1\}$.</p> <p>(2p) a) Arătați că $x^2 + 2x - 3 = (x + 3)(x - 1)$, pentru orice $x \in \mathbb{R}$.</p> <p>(3p) b) Demonstrați $E(x) = \frac{x}{x - 1}$, pentru orice $x \in \mathbb{R} \setminus \{-4, -3, 1\}$.</p>
5p	<p>3. Se consideră funcția $f : \mathbb{R} \rightarrow \mathbb{R}$, $f(x) = mx + 2$, unde $m \in \mathbb{R}$.</p> <p>(2p) a) Aflați valoarea lui m, știind că $f(2) = 8$.</p> <p>(3p) b) Pentru $m = 3$ reprezintă grafic funcția.</p>
5p	<p>4. În figura de mai jos este reprezentat trapezul dreptunghic $ABCD$ cu $AB \parallel CD$, $AB = 12$ cm, $CD = 16$ cm și $BD \perp BC$. Punctul M este mijlocul segmentului CD, iar diagonala AC intersectează dreapta BM în punctul P.</p> <p>(2p) a) Arătați că $BM = 8$ cm.</p>

	<p>(3p) b) Determinați lungimea segmentului PM.</p>	
<p>5p</p>	<p>5. În figura alăturată este reprezentat triunghiul dreptunghic ABC. Lungimea ipotenuzei AC este de 24 cm și măsura unghiului ACB este de 30°. Punctul D este simetricul punctului C față de punctul B.</p> <p>(2p) a) Arată că $AC = 2AB$.</p> <p>(3p) b) Demonstrează că triunghiul ADC are perimetrul mai mic decât 90 cm.</p>	
<p>5p</p>	<p>6. O cofetărie produce bomboane sub forma unei piramide patrulater regulate $VABCD$ cu latura bazei $AB = 6$ cm și înălțimea $VO = 4$ cm.</p> <p>(2p) a) Fiecare bomboană este acoperită în totalitate cu staniol. Arătați că pentru acoperirea unei bomboane este suficientă o bucată de staniol cu suprafața de 96cm^2.</p> <p>(3p) b) Determinați distanța de la punctul V la dreapta EF, unde E și F sunt mijlocele segmentelor BC și respectiv DC.</p>	

**SUGESTII
DE
REZOLVARE**

Testul nr. 1

SUBIECTUL I

- $2^5 \cdot 3 \cdot 5^2 = 32 \cdot 3 \cdot 25 = 2400$, deci răspuns corect c).
- $\frac{2}{5} \cdot 360 = 2 \cdot 72 = 144$, deci răspuns corect b).
- Cel mai mic număr întreg de o cifră este -9 , iar cel mai mare număr natural de o cifră este 9 .
 $-9 - 9 = -18$, deci răspuns corect d).

- Numerele întregi din mulțimea A sunt $\left\{-\sqrt{9}; 1; \frac{4}{2}\right\}$.

Suma numerelor întregi din mulțimea A este: $-\sqrt{9} + 1 + \frac{4}{2} = -3 + 1 + 2 = 0$, deci răspuns corect a).

- $(\sqrt{72} - \sqrt{27})(6\sqrt{2} + 3\sqrt{3}) = (6\sqrt{2} - 3\sqrt{3})(6\sqrt{2} + 3\sqrt{3}) = (6\sqrt{2})^2 - (3\sqrt{3})^2 = 72 - 27 = 45$, deci răspuns corect b).

- 35% dintre elevi studiază limba engleză și 20% dintre elevi studiază limba germană, deci engleză sau germană studiază 55%, deci răspuns corect b).

SUBIECTUL al II-lea

- M este mijlocul laturii $BC \Rightarrow AM$ mediană și $\triangle ABC$ echilateral $\Rightarrow AM$ bisectoare

Rezultă $m(\sphericalangle CAM) = \frac{m(\sphericalangle BAC)}{2} = \frac{60^\circ}{2} = 30^\circ$, deci răspuns corect b).

- Unghiurile x și $x + 64$ sunt suplementare deci $x + x + 64 = 180^\circ \Rightarrow 2x + 64 = 180^\circ \Rightarrow 2x = 116^\circ \Rightarrow x = 58^\circ$, deci răspuns corect c).

- $\sphericalangle ABD \equiv \sphericalangle CAD$ (au același complement $\sphericalangle BAD$). Deci $\sphericalangle ABD \equiv \sphericalangle CAD \Rightarrow m(\sphericalangle CAD) = 30^\circ$.
Triunghiul ABD este dreptunghic și are un unghi de 30° , deci aplicând teorema unghiului de 30°
 $\Rightarrow DC = \frac{AC}{2} = 4$, deci răspuns corect c).

- $AB = AC \Rightarrow \triangle ABC$ este isoscel. Din AO mediatoare $\Rightarrow AO$ bisectoare.

Deci $m(\sphericalangle BAC) = 2 \cdot m(\sphericalangle BAO) = 2 \cdot 36^\circ = 72^\circ$. Cum $\sphericalangle BAC$ este un unghi cu vârful pe cerc \Rightarrow

$$m(\sphericalangle BAC) = \frac{m(\widehat{BC})}{2} \Rightarrow m(\widehat{BC}) = 2 \cdot 72^\circ = 144^\circ, \text{ deci răspuns corect d).}$$

5. $AC = l\sqrt{2} = 60\sqrt{2} \text{ m} \Rightarrow EF = \frac{AC}{3} = 20\sqrt{2} \text{ m}.$

Dacă $AC \cap BD = \{O\} \Rightarrow DO \perp EF$.

$$S_{\triangle DEF} = \frac{EF \cdot DO}{2} = \frac{20\sqrt{2} \cdot 30\sqrt{2}}{2} = 600 \text{ m}^2, \text{ deci răspuns corect a).}$$

6. $A_l = 2h(L+l) = 6 \cdot 14 = 84 \text{ m}^2$, deci răspuns corect b).

SUBIECTUL al III-lea

1. a) $53 \text{ ani} = 53 \cdot 12 \text{ luni} = 636 \text{ luni}$

b) peste 4 luni vârsta mamei Mariei va fi de 640 luni, iar vârsta Mariei va fi $640 : 4 = 160$ luni.

Deci Maria are $156 : 12 = 13$ ani.

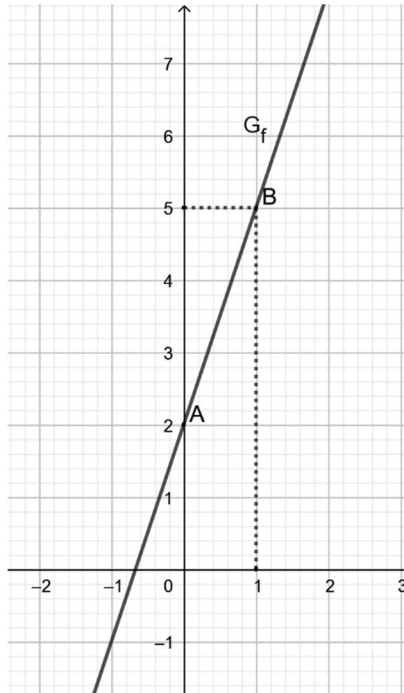
2. a) $(x+3)(x-1) = x^2 - x + 3x - 3 = x^2 + 2x - 3$

b)
$$E(x) = \left(\frac{x^2+8}{(x+3)(x-1)} + \frac{x-1}{x+3} - \frac{x+3}{x-1} \right) : \frac{x+4}{x+3} = \frac{x^2+8+5x-5-x-3}{(x+3)(x-1)} : \frac{x+4}{x+3} =$$

$$\frac{x^2+4x}{(x+3)(x-1)} \cdot \frac{x+3}{x+4} = \frac{x}{x-1}.$$

3. a) $f(2) = 2m + 2 \Rightarrow 2m + 2 = 8 \Rightarrow m = 3$

b) Avem de exemplu $A(0,2)$ și $B(1,5)$.



4. a) $BD \perp BC \Rightarrow \triangle DBC$ dreptunghic în B,

M este mijlocul $CD \Rightarrow BM$ mediană $\Rightarrow BM = \frac{DC}{2} = 8 \text{ cm}$.

b) $\triangle APB \sim \triangle CPM$ deoarece $\sphericalangle APB \equiv \sphericalangle CPM$ (opuse la vârf) și $\sphericalangle BAP \equiv \sphericalangle MCP$ (alterne interne)

$$\Rightarrow \frac{AP}{CP} = \frac{PB}{PM} = \frac{AB}{CM} \Rightarrow \frac{BM - PM}{PM} = \frac{AB}{CM} \Rightarrow \frac{8 - PM}{PM} = \frac{12}{8} \Rightarrow PM = \frac{16}{5}$$

5. a) $\sin(\sphericalangle ACB) = \frac{AB}{AC} \Rightarrow \sin 30^\circ = \frac{AB}{AC} \Rightarrow \frac{1}{2} = \frac{AB}{AC} \Rightarrow AC = 2AB$.

b) AB înălțime și mediană $\Rightarrow \triangle ADC$ isoscel $\Rightarrow AD = AC = 24 \text{ cm}$, iar $DC = 24\sqrt{3} \text{ cm}$

$$P_{\triangle ADC} = 2 \cdot 24 + 24\sqrt{3} = 48 + 24\sqrt{3}$$

$$48 + 24\sqrt{3} < 90 \Leftrightarrow 24\sqrt{3} < 42 \Leftrightarrow 12\sqrt{3} < 21 \Big| ^2 \Leftrightarrow 432 < 441.$$

6. a) $VE = 5 \text{ cm}$ (apotema piramidei)

$$A_t = A_l + A_b$$

$$A_l = \frac{P_b \cdot a_p}{2} = \frac{24 \cdot 5}{2} = 60 \text{ cm}^2$$

$$A_b = AB^2 = 36 \text{ cm}^2 \Rightarrow A_t = 96 \text{ cm}^2 .$$

b) Notăm $EF \cap OC = \{M\}$

$$\left. \begin{array}{l} VO \perp (ABC) \\ OM \perp EF \\ OM, EF \subset (ABC) \end{array} \right| \Rightarrow VM \perp EF \Rightarrow \text{dist}(V, EF) = VM ,$$

$$OM = \frac{OC}{2} = \frac{3\sqrt{2}}{2} . \text{ În } \Delta VOM \text{ aplicăm teorema lui Pitagora } \Rightarrow VM^2 = VO^2 + OM^2 \Rightarrow$$

$$VM = \frac{\sqrt{82}}{2} \text{ cm}$$