

# GEOGRAFIE

Anghel Raluca-Maria

Teste rezolvate  
Bacalaureat



**Portal**  
ÎNVĂȚĂMÂNT

[www.portalinvatamant.ro](http://www.portalinvatamant.ro)

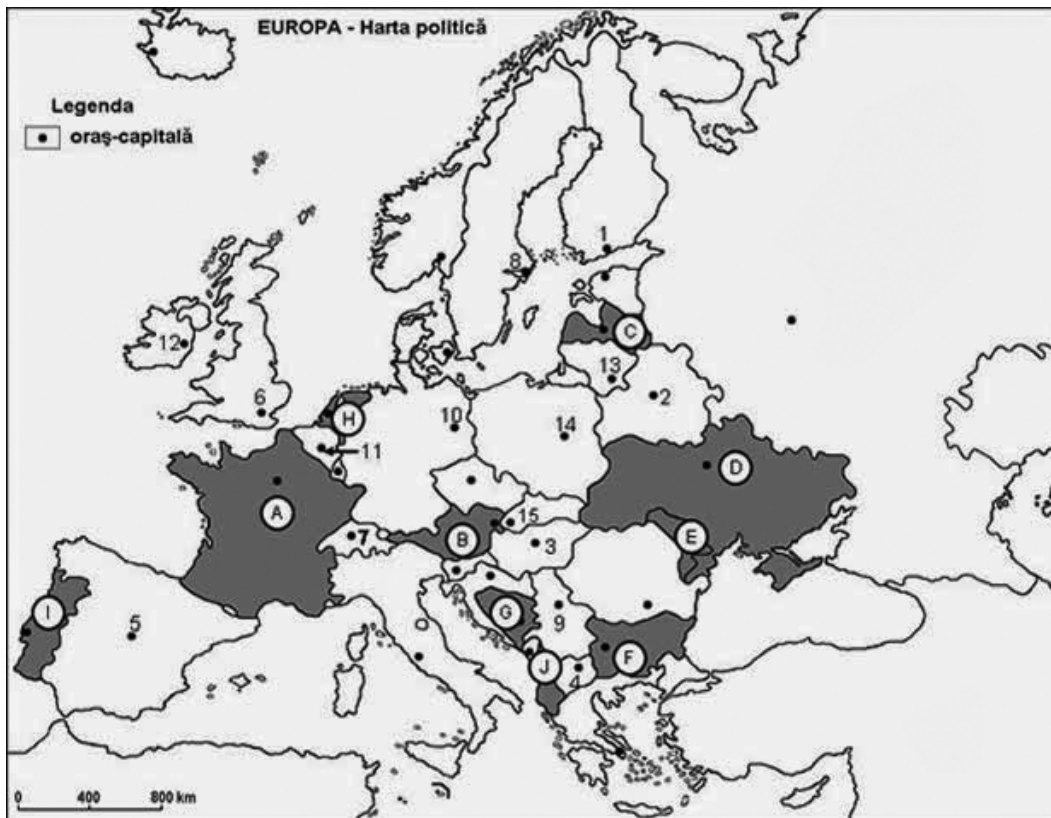


***Teste***

## Testul nr. 17

### SUBIECTUL I

(30 de puncte)



Sursa: <http://iabacul.blogspot.com/p/geografie-harti-albe-europa.html>

Harta de mai sus se referă la subiectul I A-D. Pe hartă sunt marcate state cu litere și oraș-capitală cu numere.

**A. Precizați:**

1. numele statelor marcate pe hartă cu literele **E** și **J**;
2. numele orașelor-capitală marcate pe hartă cu numerele **9** și **12**.

**4 puncte**

**B. Scrieți în spațiile punctate răspunsurile corecte care completează propozițiile de mai jos:**

1. Portul maritim Le Havre este localizat pe litoralul Mării...
2. La granița dintre Germania, Austria și Elveția se află lacul...
3. La vărsarea Rinului în Marea Nordului se află cel mai mare port al Europei, numit...

**6 puncte**

**C. Încercuiți litera corespunzătoare răspunsului corect pentru fiecare dintre afirmațiile următoare:**

1. Țărmuri cu estuare se întâlnesc în statul marcat pe hartă cu litera:

a. A                  b. C                  c. E                  d. J

**2 puncte**

2. Cel mai lung fluviu, dintre cele de mai jos, este:  
a. Nipru      b. Ron      c. Rin      d. Volga      **2 puncte**
3. Podișul Moldovei este localizat în statul marcat pe hartă cu litera:  
a. B      b. C      c. E      d. F      **2 puncte**
4. Fluviul Ron străbate statul marcat pe hartă cu litera:  
a. A      b. B      c. F      d. H      **2 puncte**
5. Munții din statul marcat pe hartă cu litera **B** s-au format în orogeneza:  
a. caledonică      b. alpină      c. hercinică      d. kimerică      **2 puncte**

D. Precizați trei deosebiri între **relieful** statului marcat pe hartă cu litera **B** și **relieful** statului marcat cu litera **I**.

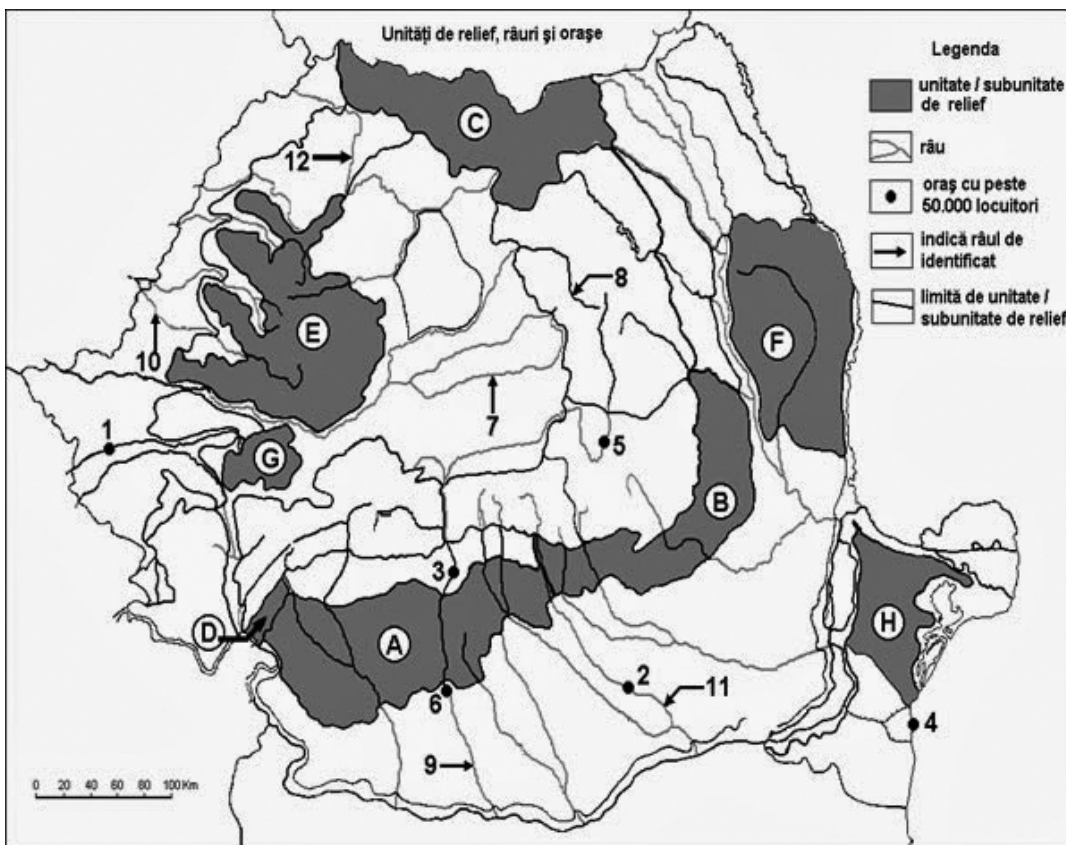
*Nota 1: Deosebirile se pot referi la oricare dintre următoarele aspecte ale **reliefului**: mod de formare, tipuri de roci, distribuția spațială a altitudinilor, gradul de fragmentare, orientarea culmilor și a văilor principale, tipuri genetice de relief, alte aspecte specifice ale reliefului.*

*Nota 2: Punctajul complet va fi acordat numai dacă cele trei deosebiri vor fi prezentate comparativ, și nu separat.*      **6 puncte**

E. Precizați două argumente care să evedențieze diversitatea vegetației în statul marcat pe hartă cu litera **A**.      **4 puncte**

## SUBIECTUL al II-lea

(30 de puncte)



Sursa: <http://iabacul.blogspot.com/p/geografie-statele-sunt-marcate-cu.html>

Harta anterioară se referă la subiectul II A-D. Pe hartă sunt marcate unități de relief cu litere, orașe cu numere de la 1 la 6 și râuri cu numere de la 7 la 12.

A. Precizați:

1. numele unităților de relief marcate pe hartă cu literele **D** și **G**;
  2. numele râului marcat pe hartă cu numărul **7** și numele celui mai mare oraș de pe acest râu.
- 4 puncte**

B. Scrieți în spațiile punctate răspunsurile corecte care completează afirmațiile de mai jos:

1. Râul marcat pe hartă cu numărul **8** se numește...
  2. Orașul marcat pe hartă cu numărul **1** este străbătut de râul numit...
  3. Orașul marcat pe hartă cu numărul **3** se numește...
- 6 puncte**

C. Încercuiți litera corespunzătoare răspunsului corect pentru fiecare dintre afirmațiile de mai jos:

1. Sectorul maritim al Dunării se desfășoară între:
 

a. Brăila-Galați	b. Galați-Sulina	c. Brăila-Sulina	d. Galați-Tulcea	<b>2 puncte</b>
------------------	------------------	------------------	------------------	-----------------
2. Cel mai lung râu care curge integral pe teritoriul țării este:
 

a. Mureș	b. Olt	c. Siret	d. Jiu	<b>2 puncte</b>
----------	--------	----------	--------	-----------------
3. Cel mai vechi relief din țara noastră se află în unitatea de relief marcată pe hartă cu litera:
 

a. B	b. D	c. E	d. H	<b>2 puncte</b>
------	------	------	------	-----------------
4. În orașul marcat pe hartă cu numărul **6** se obține în cadrul industriei metalurgice:
 

a. aluminiu	b. alumina	c. cupru	d. zinc	<b>2 puncte</b>
-------------	------------	----------	---------	-----------------
5. Lacul carstic Ponoare este localizat în unitatea de relief marcată pe hartă cu litera:
 

a. A	b. C	c. D	d. G	<b>2 puncte</b>
------	------	------	------	-----------------

D. Precizați două deosebiri și o asemănare între **clima** unității marcate pe hartă cu litera **A** și **clima** unității marcate pe hartă cu litera **B**.

*Nota 1: Deosebirile și asemănarea se pot referi la oricare dintre următoarele elemente de **climă**: tip de climă, temperaturi medii anuale, precipitații medii anuale, vânturi, amplitudine termică.*

*Nota 2: Punctajul complet va fi acordat numai dacă deosebirile și asemănarea vor fi prezentate comparativ, și nu separat.*

**6 puncte**

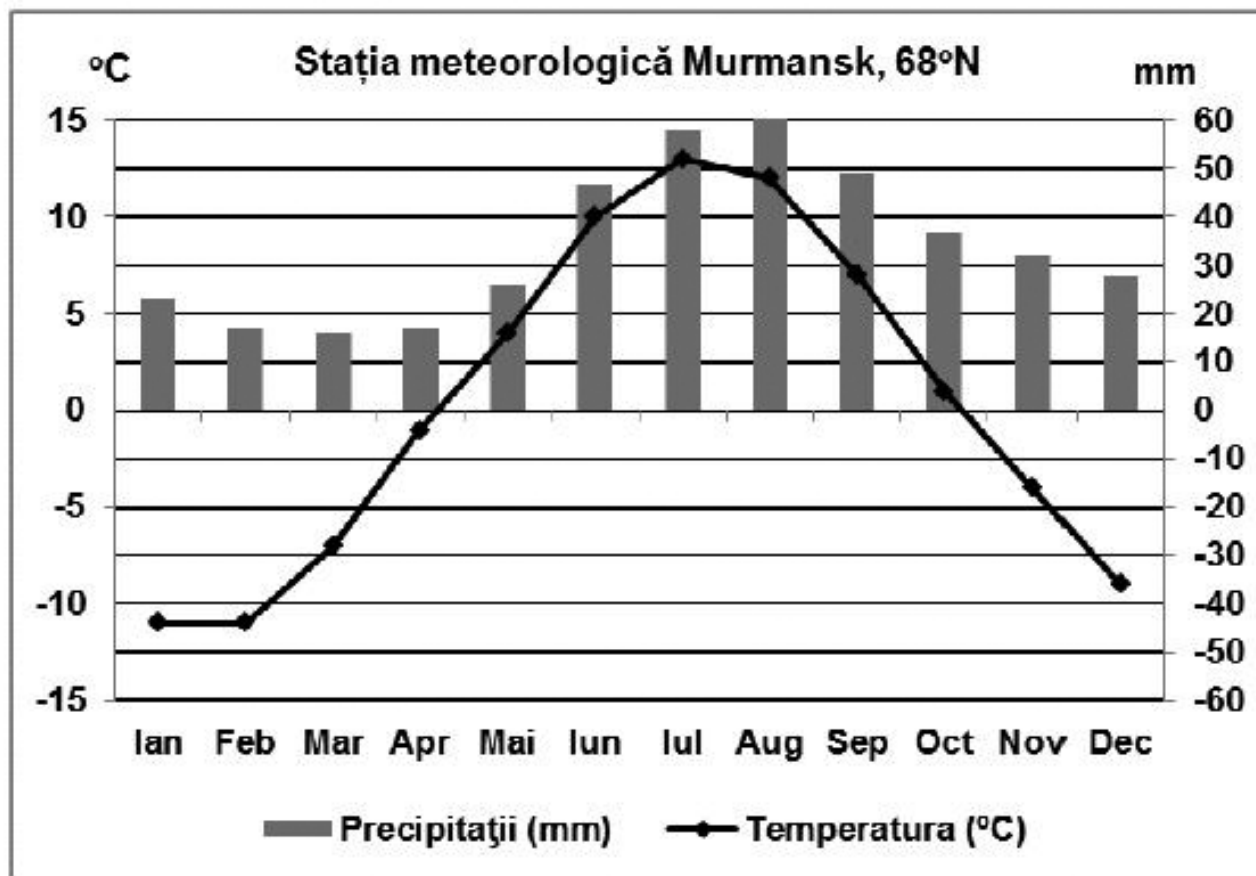
E. Explicați și prezentați zona solurilor de pădure.

**4 puncte**

**SUBIECTUL al III-lea**

**(30 de puncte)**

Analizați diagrama următoare care se referă la subiectul **III A-B** și prezintă evoluția valorilor medii lunare ale temperaturilor atmosferice la o anumită stație meteorologică.



Sursa: <http://geografilia.blogspot.com/2016/06/pregatire-geografie-bac-cum-recunoastem.html>

**A. Precizați:**

1. valoarea maximă a precipitațiilor medii lunare și luna în care se înregistrează; 2 puncte
2. valoarea minimă a precipitațiilor medii lunare și luna în care se înregistrează. 2 puncte

**B.1. Calculați amplitudinea termică anuală.** 2 puncte

2. Precizați valoarea maximă a temperaturilor medii lunare și luna în care se înregistrează. 2 puncte

3. Numiți tipul de climă în care se înregistrează valorile menționate în diagrama de mai sus. 2 puncte

**C. Pentru Grecia, precizați:**

1. numele a două peninsule din această țară;
2. numele a două tipuri de climă;
3. un tip de vegetație și un tip de sol;
4. numele a două orașe, altele decât capitala;
5. numele a două regiuni turistice.

10 puncte

**D. Tabelul următor prezintă clasificarea orașelor după mărimea demografică.**

Orașe	Nr. orașe
Orașe foarte mari peste 2 mil. loc.	1
Orașe mari 10.000 – 350.000	23
Orașe de mărime mijlocie 50.000 – 100.000	22
Orașe mici 20.000 – 50.000	63
Orașe foarte mici sub 20.000	155

Sursa: Manualul de Geografie, cls. a VIII-a, Octavian Mândruț, 2008, Ed. Corint.

1. Calculați numărul total al județelor din țara noastră.
2. Calculați diferența dintre numărul orașelor mici și de mărime mijlocie din țara noastră.
3. Numiți două orașe cu populație de peste 300.000 de locuitori din țara noastră.

**6 puncte**

**E.1.** Numiți munții din Europa cu zăpezi permanente și ghețari actuali.

2. Precizați două cauze care au condus la defrișări masive ale suprafețelor de pădure din țările Europei Sudice.

**4 puncte**

# ***Rezolvări***

## BAREM DE EVALUARE ȘI DE NOTARE TEST NR. 17

### SUBIECTUL I

(30 de puncte)

A. Se acordă câte 1p pentru fiecare răspuns corect:

1. E – Republica Moldova; J – Albania;
2. 9 – Bellgrad; 12 – Dublin

Total (1+2) = 4 puncte

B. Se acordă câte 2p pentru fiecare răspuns corect:

1. Marea Mânecii; 2. Boden; 3. Rotterdam.

Total (1+2+3) = 6 puncte

C. Se acordă câte 2p pentru fiecare răspuns corect:

1. a; 2. d; 3. c; 4. a; 5. b.

Total (1+2+3+4+5) = 10 puncte

D. Se acordă câte 2p pentru fiecare deosebire corect formulată între relieful statului Austria (**B**) și relieful Portugaliei (**I**). Pentru răspunsuri parțial corecte se acordă câte 1p.

Statul marcat pe hartă cu litera **B** este Austria, iar statul marcat pe hartă cu litera **I** este Portugalia.

#### Deosebiri:

- Relieful Austriei este mai nou (orogeneza alpină a dat naștere Munților Alpi), în timp ce relieful Portugaliei este mai vechi, orogeneza hercinică a dat naștere marginii vestice a Mesetei.
- Relieful Portugaliei este mai jos (înălțime maximă 1.993 m), în Serra da Estrela, în timp ce relieful Austriei este mai înalt (3.797 m, în Munții Tauern Înalți).
- Relieful litoral al Portugaliei, este nisipos sau stâncos, râurile formează la vărsare estuare, în timp ce în Austria, la peste 3.000 m s-au instalat ghețari montani care creează un relief glaciatic actual (văi glaciare, praguri glaciare, lacuri glaciare, creste glaciare, morene glaciare).

Total 6 puncte

E. Se acordă 2p pentru un argument corect precizat. Pentru răspuns parțial corect se poate acorda punctaj intermediar (1p). Pentru două caracteristici corect formulate se acordă 4p.

- Statul marcat cu litera A este Franța. Diversitatea vegetației depinde, în Franța, de existența mai multor tipuri climatice. În vest, climatul oceanic este favorabil dezvoltării foioaselor și landelor; în sud, clima mediteraneeană determină apariția vegetației mediteraneene, veșnic verzi (stejar de plută, stejarul veșnic verde, pinul de Alep, pinul maritim, măslinul sălbatic, laur ș.a.) și a tufișurilor spinoase, gariga și maquis. În partea centrală, climatul de tranziție influențează întrepătrunderea foioaselor cu coniferele.
- Desfășurarea altitudinală a reliefului (Munții Pirinei, Munții Alpi, Munții Jura) determină o etajare a climei și vegetației. Etajul foioaselor urcă până la 1.200 m, urmează etajul coniferelor până la 1.800 m; cele două etaje formează zona de pădure, mai sus începe zona alpină cu două subetaje: unul subalpin, până la 2.000 m (cu arbuști – jneapăn, ienupăr, merișor și afin) și pajiștea alpină, la peste 2.000 m (ierburi dure, rezistente la temperaturi coborâte, precipitații bogate și vânturi puternice); de la 3.000 m începe etajul zăpezilor permanente și al ghețarilor.

Total 4 puncte

### SUBIECTUL al II-lea

(30 de puncte)

A. Se acordă câte 1p pentru fiecare răspuns corect:



1. D – Podișul Mehedinți; G – Munții Poiana Ruscă;  
2. Târnava Mare; Mediaș

**Total (1+2) = 4 puncte**

**B.** Se acordă câte 2p pentru fiecare răspuns corect:

1. Mureș; 2. Bega; 3. Râmnicu Vâlcea.

**Total (1+2+3) = 6 puncte**

**C.** Se acordă câte 2p pentru fiecare răspuns corect:

1. c; 2. b; 3. d; 4. a; 5. c.

**Total (1+2+3+4+5) = 10 puncte**

**D.** Se acordă câte 2p pentru fiecare deosebire corect formulată între clima Podișului Getic (**A**) și clima Subcarpaților de Curbură (**B**). Pentru răspunsuri parțial corecte se acordă câte 1p.

Unitatea de relief marcată pe hartă cu litera **A** reprezintă Podișul Getic, iar unitatea de relief marcată pe hartă cu litera **B** reprezintă Subcarpații de Curbură.

**Deosebiri:**

– În Subcarpații de Curbură ajung influențe de continentalism excesiv (de ariditate), pe când în Podișul Getic ajung influențe submediteraneene în partea de vest, până la Olt, și de tranziție în rest.

– Temperaturile medii sunt mai coborâte în Subcarpații de Curbură ( $6^{\circ}\text{C}$ - $8^{\circ}\text{C}$ ), în timp ce în Podișul Getic se înregistrează temperaturi medii de  $8^{\circ}\text{C}$ - $10^{\circ}\text{C}$ .

**O asemănare:**

– În ambele unități de relief precipitațiile au valori cuprinse între 600 și 800 mm/an și bat, în cea mai mare parte a anului, vânturile de vest, vânturi cu caracter general.

**Total 6 puncte**

**E.** Se acordă 4p pentru o argumentare corectă și completă. Pentru răspuns parțial corect se poate acorda punctaj intermediar (2 p).

Zona solurilor de pădure cuprinde munții, dealurile și chiar o parte din câmpii. Solurile brun-roșcate de pădure se găsesc în etajul stejarului. În dealurile mai înalte cu păduri de fag apar cambisolurile (brune și brun-acide), iar sub conifere se formează spodosolurile (podzolul).

**Total 4 puncte**

**SUBIECTUL al III-lea**

**(30 de puncte)**

**A.** Se acordă câte 1p pentru fiecare răspuns corect:

1. 60 mm; august;  
2. 15 mm; martie.

**Total (1+2) = 4 puncte**

**B.** Se acordă câte 2p pentru fiecare element solicitat:

1. Amplitudinea =  $T^{\circ}\text{C}$  maxima –  $T^{\circ}\text{C}$  minimă;

$T^{\circ}\text{C}$  maximă iulie =  $12,5^{\circ}\text{C}$ ;  $T^{\circ}\text{C}$  minimă februarie =  $-11,5^{\circ}\text{C}$

$A = 12,5^{\circ}\text{C} - (-11,5^{\circ}\text{C}) = 24^{\circ}\text{C}$

2.  $T^{\circ}\text{C}$  maximă iulie =  $12,5^{\circ}\text{C}$ .

3. Rece – subpolară

**Total (1+2+3) = 6 puncte**

**C.** Se acordă câte 2p pentru fiecare element solicitat:

**Grecia:**

1. Peninsula Pelopones, Peninsula Calcidică;
2. tipul climatic mediteraneean și tipul climatic montan;
3. vegetața mediteraneeană, veșnic verde (stejar de plută, stejarul veșnic verde, pinul de Alep, pinul maritim, măslinul sălbatic, laur ș.a.); soluri terra rosa;
4. Volos, Patras;
5. Atena (cu vestigii ale civilizației antice – Parthenonul, templu închinat zeiței patroane a orașului), insula Rodos din arhipelagul Sporade de Sud, loc de legătură între civilizațiile cretană, egipteană și orientală, datorită poziției sale geografice.

**Total (1+2+3+4+5) = 10 puncte**

**D.** Se acordă 2p pentru fiecare element solicitat, astfel:

1.  $1 + 23 + 22 + 63 + 155 = 264$ ;

2.  $63 - 22 = 41$

3. Brașov, Timișoara

**Total (1+2+3) = 6 puncte**

**E.** Se acordă 4p pentru un argument corect explicat. Pentru răspuns parțial corect se poate acorda punctaj intermediar (2p).

1. Munții Siera Nevada (Spania), Munți Pirinei (Spania, Franța), Munții Alpi (Franța, Elveția Austria, Italia), Munții Caucaz (limită între Europa și Asia);

2. – pentru obținerea terenurilor agricole și pășunilor,

– materie primă pentru industrie (celuloză, hârtie, mobilă ș.a.).

**Total 4 puncte**